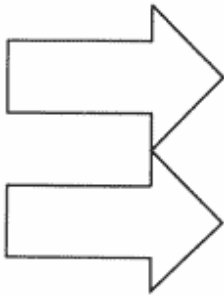



ACERTIJS

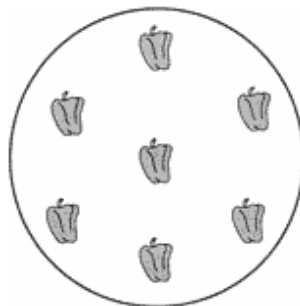
Profesor: Alejandro Marzoratti

1- Agrega dos líneas rectas y divide el cuadrante del reloj en tres partes. La suma de los números de cada parte debe ser igual.



2- Fíjate si puedes hacer una tercera flecha que tenga el mismo tamaño que las otras dos agregando sólo dos líneas rectas.

3- Divide la pizza con tres líneas rectas de manera que quede sólo un trozo de pimiento en cada porción



Respuestas: En el próximo boletín

